



1

| | | | | | |
|----|---------------|---------------|-------------|-------------|-----|
| 問1 | エ | 問2 | ア 0.5 | イ 3.5 | ウ 3 |
| 問3 | ばねA 3.5 cm | ばねB 3.5 cm | | | |
| 問4 | | | | | |
| 問5 | カ | 問6 | (1) 0.53 kg | (2) 0.58 kg | |
| 問7 | (1) 240 cm | (2) 180 cm | | | |



2

| | | | | | | | |
|----|------------------------------|--------------------|---|----|---|----|---|
| 問1 | 不完全変態 | 問2 | オ | 問3 | ウ | 問4 | オ |
| 問5 | ア, イ | 問6 | エ | 問7 | イ | | |
| 問8 | (1) エ | (2) カブトムシの足がすべるから。 | | | | | |
| 問9 | アリを20匹入れて重さをはかる。表示される値は0.6g。 | | | | | | |



3

| | | | | | | |
|----|-----------|-------------|--------|----------|----|------|
| 問1 | (1) ア | (2) イ | 問2 | 25 万スタジア | | |
| 問3 | (1) 180 m | (2) 7166 km | 問4 | キ | 問5 | 57 度 |
| 問6 | 6051.5 km | 問7 | 0.95 度 | 問8 | ア | |




4

| | | | | | | | |
|----|--------|----|---------------------|----------------------|------|----|---|
| 問1 | 水素 | 問2 | イ, ウ, オ または イ, オ | 問3 | ウ, エ | | |
| 問4 | イ | 問5 | 128 cm ³ | 問6 | ウ | 問7 | エ |
| 問8 | 0.27 g | 問9 | 2 倍 | 2760 cm ³ | 問10 | ウ | |



↓ここにシールを貼ってください↓



24020112

| | |
|------|----|
| 受験番号 | 氏名 |
| | 模解 |